

ORIENTAÇÕES AOS PAIS DOS 1 ° ANOS:

- REALIZAR DIARIAMENTE A LEITURA DAS FICHAS, QUE FORAM ENVIADAS NA AGENDA;
- USAR O ALFABETO MÓVEL (QUE ESTÁ DENTRO DA BOLSA) PARA:
- MONTAR A ORDEM ALFABÉTICA;
- ESCREVER OS ENCONTROS VOCÁLICOS;
- REESCREVER AS PALAVRAS DAS FICHAS DE LEITURA;
- ESCREVER O SEU NOME;
- ESCREVER NOVAS PALAVRAS.
- RECORTAR E COLAR PALAVRAS COM AS SÍLABAS JÁ TRABALHADAS: DA-DE-DI-DO-DU / MA-ME-MI-MO-MU
- TREINAR SEU PRÓPRIO NOME COM A LETRA CURSIVA;
- UTILIZAR O ÁBACO PARA FAZER CONTAS DE ADIÇÃO;
- CONTAR ORALMENTE ATÉ 50;
- FAZER RELAÇÕES DAS QUANTIDADES COM OS NÚMEROS ATÉ 10;

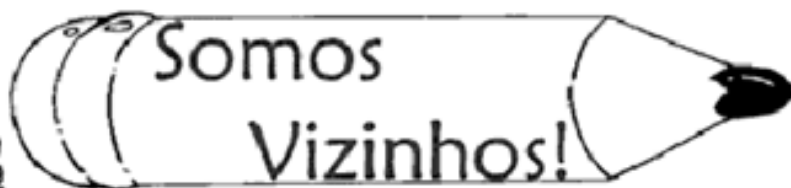
ATIVIDADE DE MATEMÁTICA – 1º Trimestre

NOME: _____ 1º ano _____

PROFESSORA: _____ DATA: _____



QUEM VEM ANTES?



← 7 ← 2 ← 9

QUEM VEM DEPOIS?

4 → 2 → 0 →

QUEM ESTÁ ENTRE?

3 ← → 5 7 ← → 9
0 ← → 2 4 ← → 6
6 ← → 8 1 ← → 3

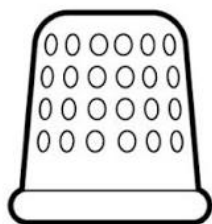
ATIVIDADE DE LINGUAGEM 1 trimestre

NOME: _____ 1º ano _____

PROFESSORA: _____ DATA: _____

1. CIRCULE A PALAVRA DE ACORDO COM O NOME DE CADA FIGURA.

LETRA D



DEDAL
DAMA
DEDO



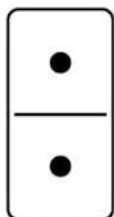
DONA
DIAMANTE
DITADO



DEDO
DIA
DENTE



DIA
DAMA
DEDO



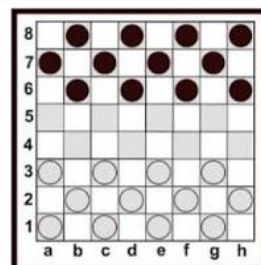
DOMINÓ
DOIDO
DITADO



DICA
DIA
DINHEIRO



DAMA
DEDO
DADO



DUELO
DAMA
DEDINHO



DADO
DEDO
DONA



DATA
DAMA
DOCE





ATIVIDADE DE MATEMÁTICA – 1º Trimestre





NOME: _____ 1º ano _____





PROFESSORA: _____ DATA: _____





SOMANDO COM OS DADOS





0 1 2 3 4 5 6 7 8 9





 +  = 
_____ + _____ = 

 +  = 
_____ + _____ = 

 +  = 
_____ + _____ = 

 +  = 
_____ + _____ = 

 +  = 
_____ + _____ = 

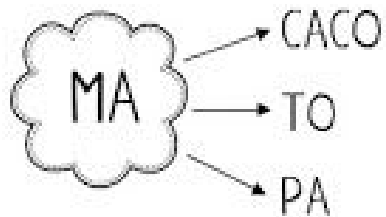
 +  = 
_____ + _____ = 

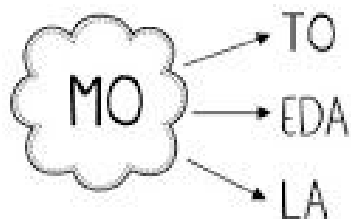

ATIVIDADE DE LINGUAGEM 1 trimestre

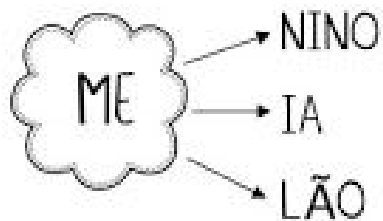
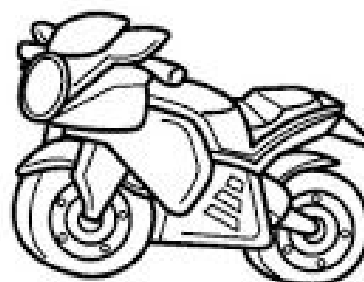
NOME: _____ 1º ano _____

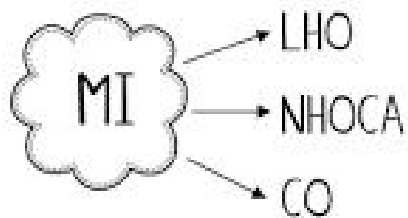
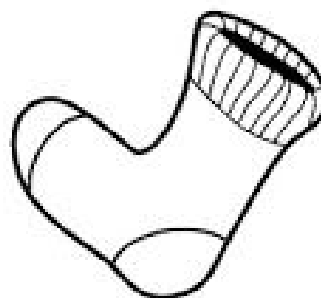
PROFESSORA: _____ DATA: _____

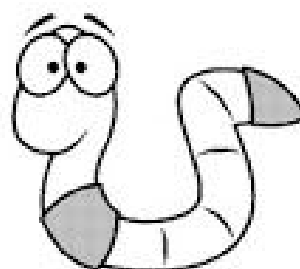
**FORME AS PALAVRAS SEGUINDO AS SETAS E DEPOIS
CIRCULE O NOME DAS FIGURAS EM DESTAQUE.**









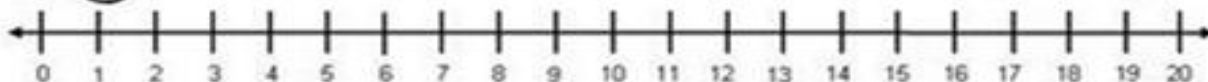
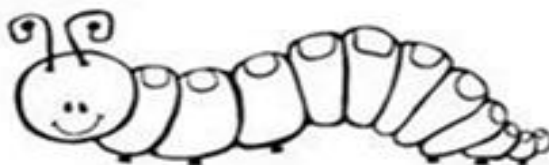


ATIVIDADE DE MATEMÁTICA – 1º Trimestre

NOME: _____ 1º ano _____

PROFESSORA: _____ DATA: _____

COMPLETE A SEQUÊNCIA NUMÉRICA:



3



5

12

15



18

20

