

Seguem os gabaritos desta semana, de 30 de março a 03 de abril de 2020.
As atividades serão realizadas na apostila, no caderno ou na folha impressa.

Vocês deverão acessar os links indicados para acompanhar as explicações das professoras e facilitar o seu estudo.

Acesse o link para estudar e acompanhar as explicações.

https://youtu.be/MFjH_fZrveQ

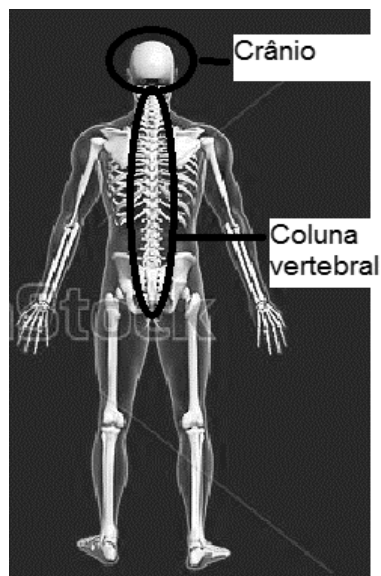
Gabarito

Atividades de Ciências

Seção Experimentando

Respostas da **página 38**.

- a) Devem ser circulos o crânio e a coluna vertebral.



b) As estruturas presentes apenas nos vertebrados e apalpados pelos alunos na atividade prática são o crânio e a coluna vertebral.

c) O ser humano é um vertebrado, pois possui crânio e coluna vertebral.

Página 39

04) a) Vertebrados, pois possuem crânio e coluna vertebral.

b) Podem ser citados corais, águas-vivas, estrelas-do-mar, vermes, minhocas, insetos (borboletas, abelhas, grilos, baratas, moscas, formigas), aranhas, escorpiões, entre outros.

05) Respostas

B

Esqueleto interno

A

Esqueleto externo

B

Possui ossos

A

Corpo mole, sem estrutura de sustentação

Gabarito

Atividades de Língua Portuguesa

Questão 01

Palavras com

<i>Uma sílaba</i>	<i>Duas sílabas</i>
Céu Trem	Xadrez Corda
<i>Três sílabas</i>	<i>Quatro ou mais sílabas</i>
Boneca Bambolê	Brincadeira Felicidade

Questão 02

- a) Trissílaba
- b) Dissílaba
- c) Monossílaba
- d) Polissílaba

Questão 03

Resposta pessoal desde que esteja de acordo com as definições que estudamos.

Exemplos de possíveis respostas.

<i>Monossílabas</i>	<i>Dissílabas</i>
Flor, sol, gol e cor	Lápis, régua, sala e lanche
<i>Trissílabas</i>	<i>Polissílabas</i>
Borracha, caderno, mochila e escola	Apontador, secretaria e biblioteca

Questão 04

Resposta

- a) A- mi- za -de: polissílaba
- b) Sor- te: dissílaba
- c) A- le- gri- a: polissílaba
- d) Mar: monossílaba
- e) Vi- da: dissílaba
- f) Sor- ve- te: trissílaba
- g) Ar: monossílaba

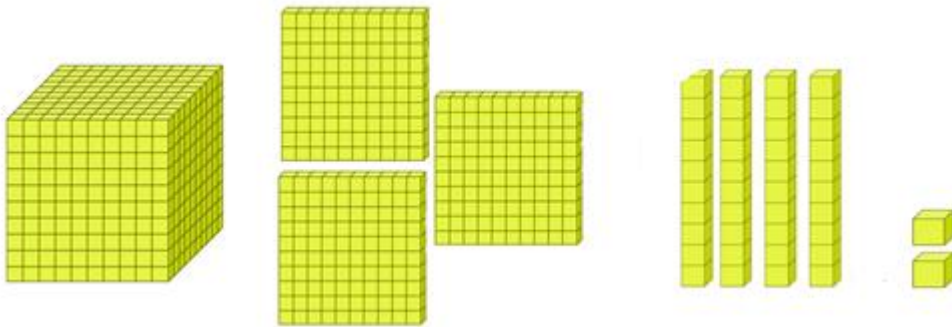
Respostas das atividades de Matemática

Acesse o link para estudar e acompanhar as explicações.

<https://youtu.be/FpufBsj2l6A>

1) Responda.

a) O numeral é 1 342.




1000+100+100+100+10+10+10+10+01+01 ou 1000+300+40+2

1 unidade de milhar, 3 centenas, 4 dezenas e 2 unidades simples

2)

a)



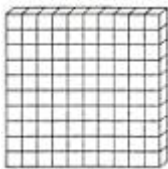
1000 unidades

c)



10 unidades

b)




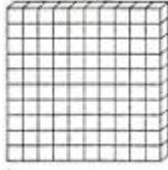


100 unidades

d)



1 unidade

3)

Número	Milhar (cubo) 	Centena(placa) 	Dezena(barra) 	Unidade(cubinho) 
2350	2	3	5	0
1517	1	5	1	7
3046	3	0	4	6
5109	5	1	0	9
4004	4	0	0	4
573	0	5	7	3
100	0	1	0	0

4)

- a) Dois mil, trezentos e cinquenta.
- b) Mil, quinhentos e dezessete.
- c) Três mil e quarenta e seis.
- d) Cinco mil, cento e nove.
- e) Quatro mil e quatro.
- f) Quinhentos e setenta e três.
- g) Cem.

5)

1075	1750
------	------

2100	2010
------	------

3387	3837
------	------

6)

Antecessor	Numeral	Sucessor
998	999	1000
1499	1500	1501
999	1000	1001
3009	3010	3011
2019	2020	2021

Gabarito de Geografia

Página 71, nº 01 Desenho livre de uma viagem marcante que você fez.

Página 74

3) Atividade a ser realizada no caderno – NÃO ESQUECER DE COLOCAR O CABEÇALHO.

4 A) Os elementos predominantes na paisagem do rio Amazonas são **naturais**, pois há vegetação e água. Essa paisagem é predominantemente natural por não ter a interferência do ser humano.

Os elementos predominantes na paisagem de Poços de Caldas são **humanizados**, pois há construções, moradias. Essa paisagem é predominantemente humanizada por ter ocorrido a interferência do ser humano.

Página 75

5 A) (x) humanizada, pois, são citados elementos feitos pelo ser humanos, em menor quantidade, elementos naturais.

5 B) Papagaio : sublinhar a palavra em azul

Varanda, sobrado, carros, Arcos da Lapa: sublinhar em vermelho

Gabarito de História

Página 39, nº 07

Possibilidade de respostas:

Rua asfaltada, grande trânsito de veículos e pessoas, iluminação elétrica, prédios altos e modernos, sinais de trânsito, poucas árvores, etc.

Página 42, nº 01

As primeiras vias construídas pelos romanos tinham o objetivo de **favorecer o deslocamento do exército pelo império.**

Página 42, nº 02

Sublinhar no texto: segundo parágrafo na página 41

“Para construir uma estrada no Império Romano, um agrimensor escolhia a rota reta e mais curta entre dois pontos”

Página 43, nº 08

Possibilidade de resposta

A vida é mais agitada, não dando tempo para brincar na rua, não há muito contato com vizinhos, o grande número de carros nas ruas não permite esse espaço como ponto de brincadeira.

ATIVIDADE A:

1. MOTHER/MOM
2. GRANDFATHER/ GRANDPA
3. UNCLE
4. NEPHEW
5. GRANDMOTHER/ GRANDMA
6. SISTER
7. COUSIN
8. FATHER/ DAD
9. PARENTS
10. AUNT

ATIVIDADE B:

1: TEDDY BEAR/ KITE/ TRAIN ROBOT/ PLANE/ DOLL/ BALL/ TRUCK/ PUZZLE/
HELICOPTER/ BUILDING BLOCKS/ BIKE/ SCOOTER/ YO-YO/

2: BOB HAS GOT A ... TRUCK /PLANE/ ROBOT/ BALL/ CAR/ TRAIN.

BETH HAS GOT A TEDDY BEAR/ RUBBER DUCK/ DOLL/ BUILDING BLOCKS/ TWO BALLS.

3. PUT A TICK FOR THE TOYS THAT PETER HAS.

A RED BICYCLE/ A TOY SHIP/ A TOY TRUCK/ A TOY PLANE/ A KITE

4. TRUE – FALSE

- 1.FALSE
2. TRUE
3. TRUE
4. TRUE
5. FALSE
6. FALSE

5. LOOK AND WRITE: PLANE/ A KITE/ A BALL

ACTIVITY C SPELLING/ALPHABET:

CHAIR – GLUE – BIN – TEACHER – TABLE - SCISSORS

WINDOW – CLOCK – DOOR - PENCIL